




Date : _____


Nom : _____

Distance :

	flèche 1	flèche 2	flèche 3	flèche 4	flèche 5	flèche 6	/60	Total
1 ^{ère} volée								
2 ^{ème} volée								
3 ^{ème} volée								
4 ^{ème} volée								
5 ^{ème} volée								
6 ^{ème} volée								
7 ^{ème} volée								
8 ^{ème} volée								
9 ^{ème} volée								
10 ^{ème} volée								
11 ^{ème} volée								
12 ^{ème} volée								
Total :								


Nom : _____

Distance :

	flèche 1	flèche 2	flèche 3	flèche 4	flèche 5	flèche 6	/60	Total
1 ^{ère} volée								
2 ^{ème} volée								
3 ^{ème} volée								
4 ^{ème} volée								
5 ^{ème} volée								
6 ^{ème} volée								
7 ^{ème} volée								
8 ^{ème} volée								
9 ^{ème} volée								
10 ^{ème} volée								
11 ^{ème} volée								
12 ^{ème} volée								
Total :								


Nom : _____

Distance :

	flèche 1	flèche 2	flèche 3	flèche 4	flèche 5	flèche 6	/60	Total
1 ^{ère} volée								
2 ^{ème} volée								
3 ^{ème} volée								
4 ^{ème} volée								
5 ^{ème} volée								
6 ^{ème} volée								
7 ^{ème} volée								
8 ^{ème} volée								
9 ^{ème} volée								
10 ^{ème} volée								
11 ^{ème} volée								
12 ^{ème} volée								
Total :								


Nom : _____

Distance :

	flèche 1	flèche 2	flèche 3	flèche 4	flèche 5	flèche 6	/60	Total
1 ^{ère} volée								
2 ^{ème} volée								
3 ^{ème} volée								
4 ^{ème} volée								
5 ^{ème} volée								
6 ^{ème} volée								
7 ^{ème} volée								
8 ^{ème} volée								
9 ^{ème} volée								
10 ^{ème} volée								
11 ^{ème} volée								
12 ^{ème} volée								
Total :								


Nom : _____

Distance :

	flèche 1	flèche 2	flèche 3	flèche 4	flèche 5	flèche 6	/60	Total
1 ^{ère} volée								
2 ^{ème} volée								
3 ^{ème} volée								
4 ^{ème} volée								
5 ^{ème} volée								
6 ^{ème} volée								
7 ^{ème} volée								
8 ^{ème} volée								
9 ^{ème} volée								
10 ^{ème} volée								
11 ^{ème} volée								
12 ^{ème} volée								
Total :								

Nom : _____

Distance :

	flèche 1	flèche 2	flèche 3	flèche 4	flèche 5	flèche 6	/60	Total
1 ^{ère} volée								
2 ^{ème} volée								
3 ^{ème} volée								
4 ^{ème} volée								
5 ^{ème} volée								
6 ^{ème} volée								
7 ^{ème} volée								
8 ^{ème} volée								
9 ^{ème} volée								
10 ^{ème} volée								
11 ^{ème} volée								
12 ^{ème} volée								
Total :								